

## De Nederlanders en hun vakantiebestemmingen

### bron 1

#### Vliegtaks

De vliegbelasting, ook wel vliegtaks genoemd, was een belasting die in Nederland van 1 juli 2008 tot 30 juni 2009 werd geheven op vliegtickets. De belastingmaatregel gold voor passagiers die vertrokken vanaf Nederlandse vliegvelden. Er was veel verzet tegen de vliegtaks, onder andere van Nederlandse luchthavens en reisorganisaties.

- 1p 1 In bron 1 wordt beschreven dat de vliegtaks op veel verzet stuitte van de Nederlandse luchthavens en reisorganisaties.  
→ Geef een argument waarom de Nederlandse luchthavens en reisorganisaties tegen de vliegtaks waren.

### bron 2

Gedeelte uit de tabel van buitenlandse vakanties van Nederlanders naar duur en land van bestemming in 2010 (x 1000)

Land	2-4 dagen	5-8 dagen	9 dagen of meer	Totaal
... P ...	1130	1320	780	3230
... Q ...	530	650	1670	2860
<b>België</b>	1170	600	230	2000
<b>Spanje</b>	70	510	990	1570
... R ...	40	440	690	1170
<b>Turkije</b>	0	300	500	800

- 2p 2 In bron 2 zijn de landen Oostenrijk, Duitsland en Frankrijk vervangen door de letters P, Q en R.  
→ Neem de letters P, Q en R uit bron 2 over op het antwoordblad en zet het juiste land erachter.
- 1p 3 In bron 2 staat achter twee- tot vierdaagse vakanties naar Turkije het getal nul. Deze nul kan een afronding zijn, maar in ieder geval zijn er weinig twee- tot vierdaagse vakanties van Nederlanders naar Turkije.  
→ Geef aan waarom Nederlanders niet of nauwelijks twee- tot vierdaagse vakanties naar Turkije boeken.

### bron 3

Vijf attractiepunten

foto 1



foto 2



foto 3




foto 4



foto 5

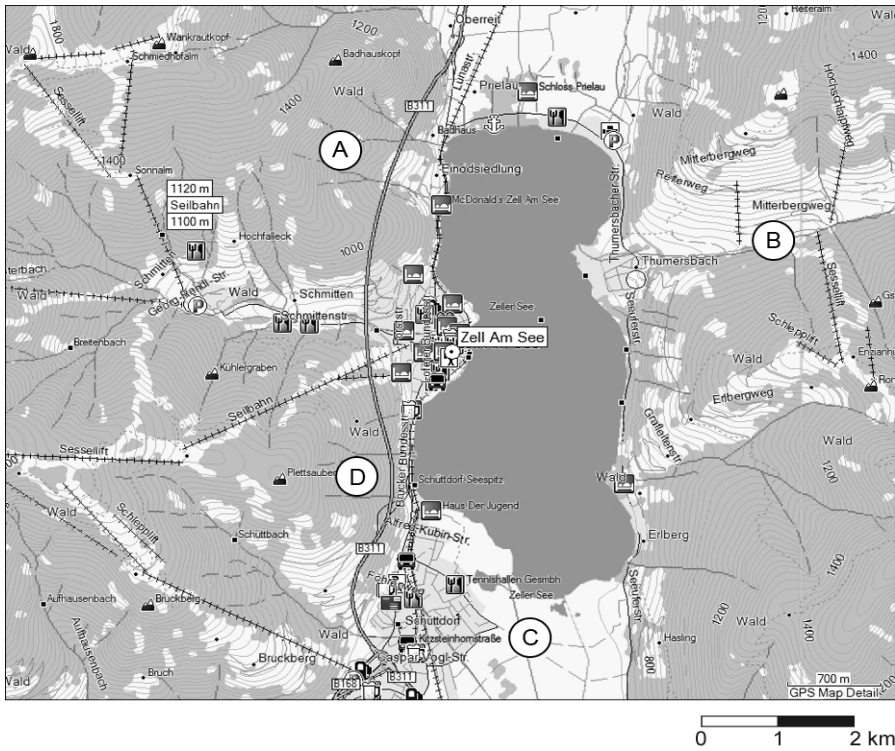


- 1p 4 Bron 3 laat vijf foto's van attractiepunten zien in vakantiebestemmingen van Nederlanders.  
Welke letter geeft de juiste combinatie van attractiepunt en land?

	<b>België</b>	<b>Duitsland</b>	<b>Frankrijk</b>	<b>Spanje</b>	<b>Turkije</b>
<b>A</b>	1	2	3	4	5
<b>B</b>	1	5	2	4	3
<b>C</b>	1	5	3	2	4
<b>D</b>	2	5	4	1	3
<b>E</b>	4	1	2	5	3
<b>F</b>	5	1	3	4	2

## bron 4

### Kaart Zell Am See en omgeving



## bron 5

### Vakantie in Zell am See



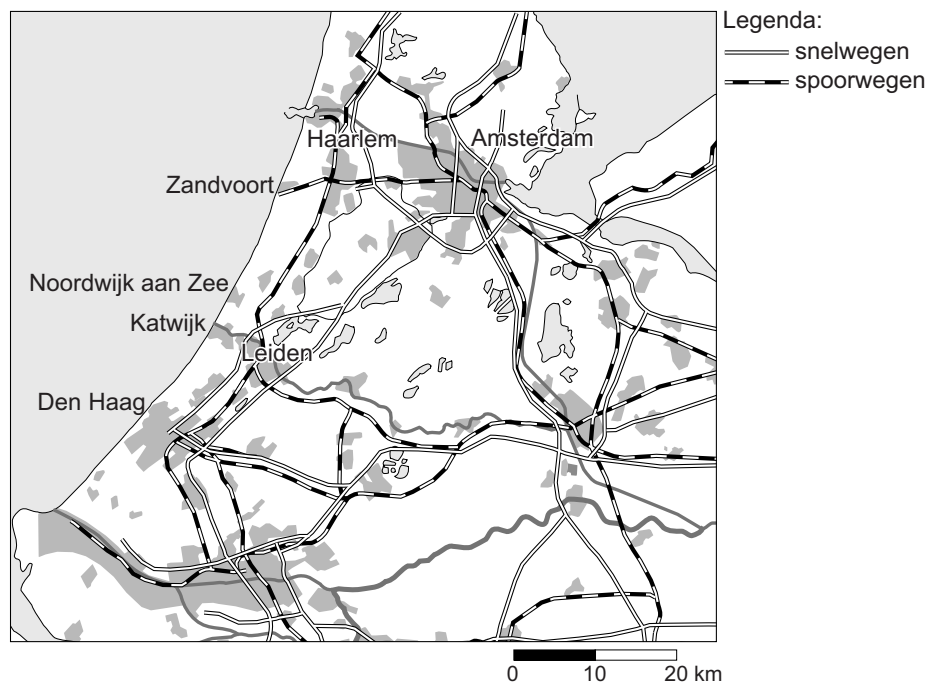
- 1p 5 De foto in bron 5 is genomen in het gebied rond Zell am See. Bij welke letter op de kaart in bron 4 zal de foto genomen zijn?
- A bij letter A
  - B bij letter B
  - c bij letter C
  - D bij letter D

**bron 6**  
Advertentie

U overweegt te gaan overwinteren in Spanje. Een wijze keuze om een groot aantal redenen. U geniet van een aangenaam klimaat in een prachtige omgeving, waar u relaxen aan het strand kunt combineren met het ondernemen van culturele activiteiten. Overwinteren in Spanje is veilig en u zult zich op uw gemak voelen. Al jarenlang zijn vele overwinteraars u voorgegaan.

- 1p 6 Welke groep Nederlanders zal het meest gebruikmaken van de reismogelijkheid uit bron 6?
- A gezinnen met kleine kinderen
  - B jongeren
  - C ouderen
  - D werkende echtparen zonder kinderen

**bron 7**  
Noordzeepadplaatsen



- 2p 7 Bekijk bron 7. Veel toeristen bezoeken de Noordzeepadplaatsen. Er worden drie uitspraken gedaan over de Noordzeepadplaatsen.
- Uitspraak 1: “Mensen die in Den Haag op vakantie zijn, gaan meestal naar Noordwijk aan Zee als ze naar het strand willen.”
  - Uitspraak 2: “Zandvoort heeft een treinverbinding, mede hierdoor zullen daar meer dagtoeristen komen dan in Katwijk.”
  - Uitspraak 3: “Vanaf station Leiden is het maar een kwartiertje wandelen naar het strand in Noordwijk aan Zee.”
- Neem de cijfers 1, 2 en 3 van de uitspraken over op het antwoordblad en zet erachter of de uitspraak juist of onjuist is.



**bron 8**  
Vakantiebestemmingen in Nederland

foto 1



foto 2



foto 3

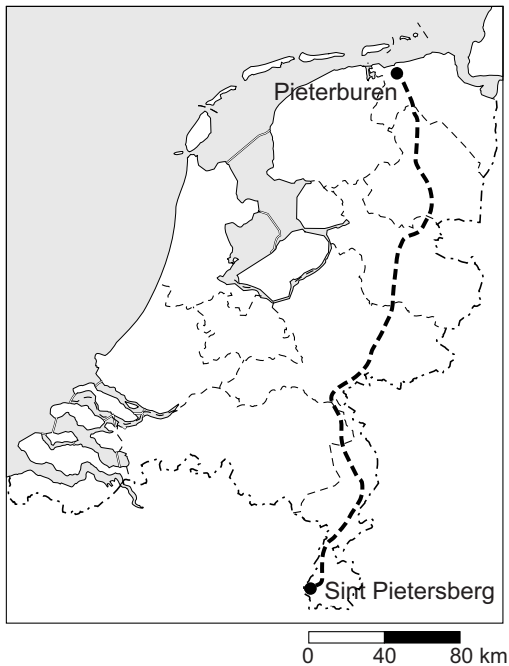


**bron 9**  
Kaart van Nederland



- 2p 8 De foto's in bron 8 zijn gemaakt op verschillende plaatsen in Nederland  
→ Neem de cijfers 1, 2 en 3 van de foto's uit bron 8 over op het  
antwoordblad en geef erachter aan bij welke letter (P, Q, R of S) op de  
kaart in bron 9 de foto is gemaakt. Let op: er blijft één plaats over.

**bron 10**  
Pieterpad



- 1p 9 In bron 10 is de route aangegeven van het Pieterpad, een langeafstandswandeling door Nederland. Anne, Joost en Sophie doen ieder een uitspraak over het Pieterpad.

Anne zegt: “De afstand van het Pieterpad is hemelsbreed bijna 200 kilometer.”

Joost zegt: “Het Pieterpad loopt van Noord-Groningen tot Zuid-Limburg.”

Sophie zegt: “Het Pieterpad loopt door de volgende provincies: Limburg, Noord-Brabant, Gelderland, Overijssel, Drenthe en Groningen.”

→ Neem de namen Anne, Joost en Sophie over op het antwoordblad en zet erachter of de uitspraak juist of onjuist is.

## bron 11

### Foto's Pieterpad

foto 1



foto 2



foto 3




foto 4



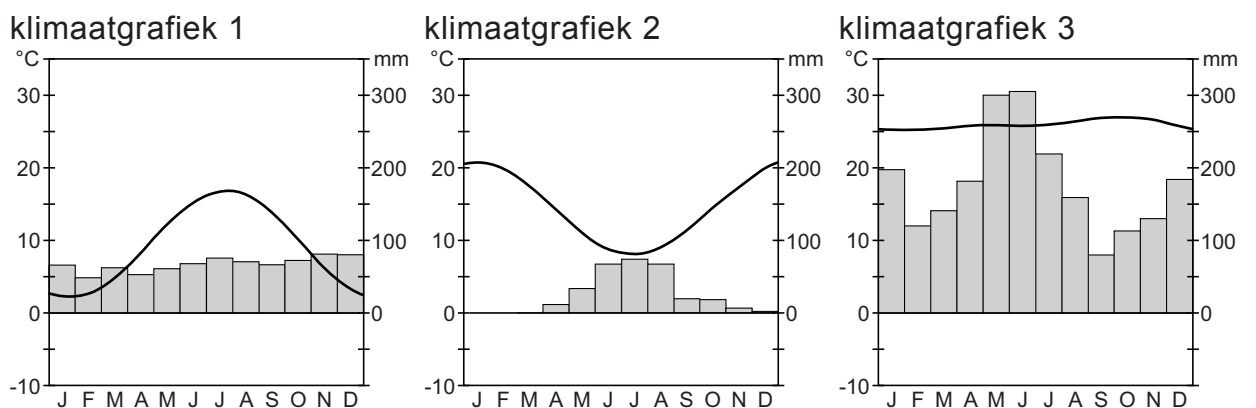
- 1p 10 Bekijk bron 10 en 11. Het Pieterpad loopt van Pieterburen naar de Sint Pietersberg. Jos en Wilma lopen het Pieterpad in de vakantie van noord naar zuid. Ze hebben onderweg foto's gemaakt.  
→ Zet de cijfers 1, 2, 3 en 4 van de foto's uit bron 11 in de juiste volgorde van noord naar zuid.
- 1p 11 Voor veel gemeenten is het aantrekkelijk als een langeafstandswandelroute, zoals het Pieterpad, door hun gemeente gaat.  
→ Geef een reden waarom gemeenten graag een langeafstandswandelroute door hun plaats willen.

**bron 12**  
De wereld



Legenda:  
P = Chili  
Q = Suriname  
R = Groenland  
S = Nederland  
T = Griekenland

**bron 13**  
Drie klimaatgrafieken



2p 12 Op de kaart in bron 12 zijn vijf vakantiebestemmingen aangegeven. De klimaatgrafieken in bron 13 horen bij drie van deze vakantiebestemmingen.

→ Neem de cijfers 1, 2 en 3 van de klimaatgrafieken uit bron 13 over op het antwoordblad en zet erachter welke letter van de vakantiebestemmingen (P, Q, R, S of T) uit bron 12 erbij hoort. Let op: er blijven twee letters over.



## bron 14

### Vakantie in Marokko



Een reis door Marokko is wakker worden in het sprookje van 1001 nacht. Vier uurtjes vliegen en je wandelt een compleet nieuwe wereld binnen.

- 1p 13 Lees bron 14.  
Marokko is een culturele bestemming.  
→ Geef twee voorbeelden van culturele bezienswaardigheden die in een land als Marokko bezocht kunnen worden.
- 1p 14 Nederlandse toeristen in Marokko moeten rekening houden met flinke cultuurverschillen.  
→ Geef twee cultuurverschillen, waar je als toerist in andere cultuurgebieden rekening mee moet houden.
- 1p 15 Costa Rica is een bestemming die bekend staat om duurzaam toerisme. Welk van de volgende voorbeelden hoort bij duurzaam toerisme?
- A Er wordt vooral geïnvesteerd in elitetoerisme; rijke toeristen geven veel uit waardoor er meer winst wordt gemaakt.
  - B Langs de kust bouwen buitenlandse investeerders grote hotels. In het hoogseizoen is er daardoor werk voor de lokale bevolking.
  - C Souvenirwinkels verkopen alleen producten die in het gebied zelf zijn geproduceerd. Op deze manier profiteert een groter deel van de bevolking.
  - D Veel toeristen komen voor de zeldzame kolonies quetzalvogels. Er worden dagelijks meerdere excursies naar hun broedgebied georganiseerd.

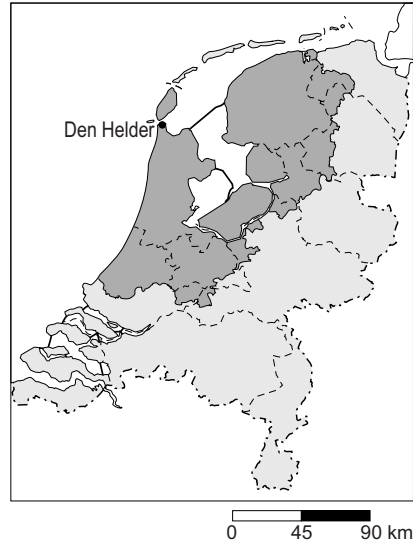
**bron 15**

Afstand die binnen twee uur kan worden afgelegd vanaf een aantal plaatsen in Nederland

kaart a: vanaf Assen



kaart b: vanaf Den Helder



kaart c: vanaf Maastricht



kaart d: vanaf Den Burg (Texel)



- 1p 16 Bekijk bron 15. Op elk van de vier kaartjes staat het gebied dat je per auto binnen twee uur kunt bereiken. Vanaf welke plaats kun je de Efteling in Kaatsheuvel binnen 2 uur bereiken?
- A vanaf Assen
  - B vanaf Den Helder
  - C vanaf Maastricht
  - D vanaf Den Burg (Texel)
- 1p 17 Bekijk nogmaals bron 15.  
→ Geef een oorzaak voor de beperkte afstand die je met de auto vanaf Texel kunt afleggen binnen twee uur.

**bron 16**

Een Spaans kustgebied

**bron 17**

Reisverslag vakantie Peter en Hanneke

Vanuit Nederland zijn we naar Spanje gevlogen en geland op het vliegveld van Girona. Daarna meteen door naar het hotel in Lloret de Mar. Hier hebben we een week aan het strand gelegen en zijn lekker uitgegaan. Na deze week zijn we nog drie dagen naar Barcelona gegaan. Hier hebben we onder andere de Sagrada Familia gezien. De laatste dag zijn we weer naar Girona gegaan om het vliegtuig naar Nederland te pakken.

1p 18 Bekijk bron 16 en lees bron 17 waarin het reisverslag van Hanneke en Peter wordt weergegeven.

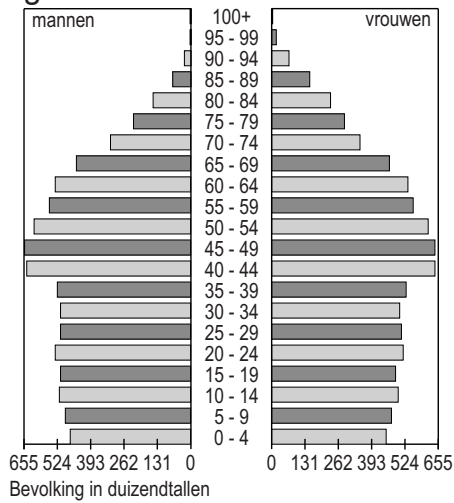
Welke reis hebben zij afgelegd?

- A P-Q-R-P
- B P-R-Q-P
- C Q-P-R-Q
- D Q-R-P-Q
- E R-P-Q-R
- F R-Q-P-R

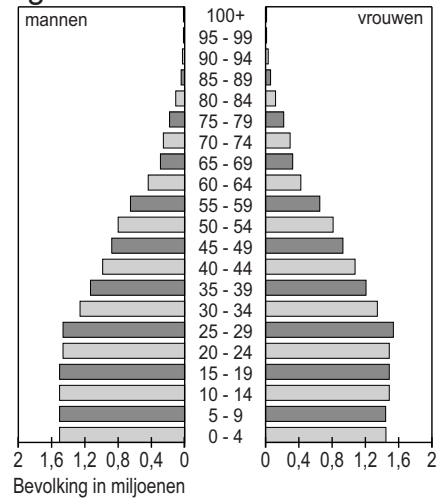
**bron 18**

Drie bevolkingspiramiden uit 2010

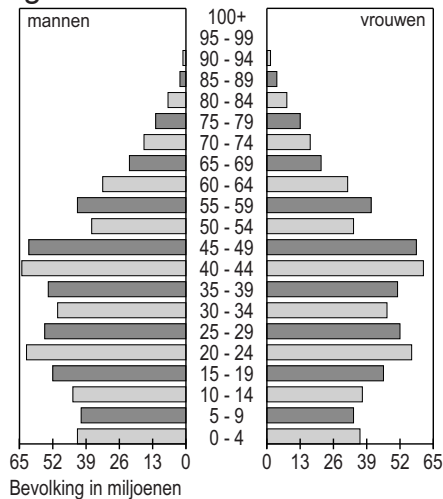
**grafiek 1**



**grafiek 2**



**grafiek 3**



- 1p **19** Bekijk bron 18. Hier staan drie bevolkingspiramiden van landen waar Nederlanders naar toe gaan op vakantie.  
Achter welke letter staan de juiste landen bij de grafieken genoemd?

	<b>grafiek 1</b>	<b>grafiek 2</b>	<b>grafiek 3</b>
<b>A</b>	China	Marokko	Nederland
<b>B</b>	China	Nederland	Marokko
<b>C</b>	Marokko	Nederland	China
<b>D</b>	Marokko	China	Nederland
<b>E</b>	Nederland	Marokko	China
<b>F</b>	Nederland	China	Marokko

## bron 19

Krantenartikel

### Waddenzee op Werelderfgoedlijst

TERSCHELLING 26 juni 2009 - UNESCO, de organisatie van de Verenigde Naties voor Onderwijs, Wetenschap en Cultuur, heeft besloten om het waddengebied op de Werelderfgoedlijst te plaatsen. De Verenigde Naties vinden dat dit gebied zo waardevol is dat het beschermd moet worden voor toekomstige generaties. Plaatsing op deze lijst betekent een wereldwijde erkenning voor het gebied en het kan een positieve invloed hebben op het toerisme naar de Waddeneilanden.

- 2p 20 Lees bron 19.  
Hieronder staan twee mensen beschreven.  
Roos heeft een café op het eiland langs één van de fietsroutes aan de Waddenzee.  
Douwe werkt voor Staatsbosbeheer en is verantwoordelijk voor de natuur op het eiland.  
→ Neem de namen Roos en Douwe over op het antwoordblad en geef bij beide personen aan welk voordeel zij kunnen hebben van plaatsing van het waddengebied op de Werelderfgoedlijst.
- 1p 21 Nu de Waddenzee en delen van de Waddeneilanden op de Werelderfgoedlijst staan, moeten deze ook beschermd worden. De overheid neemt diverse maatregelen betreffende het waddengebied.
- Overheidsmaatregelen waddengebied:
- 1 Gebieden voor een bepaalde periode van het jaar afsluiten.
  - 2 Uitbreiding van jachthavens / hotels / wegen verbieden.
  - 3 Huisdieren, zoals honden, weigeren in broedgebieden.
  - 4 Militaire oefenterreinen sluiten.
  - 5 Een vergunning verlenen voor nieuwe gasboringen.
- Welke van deze vijf maatregelen passen in het beleid om de Waddeneilanden als werelderfgoed te beschermen?
- A alleen maatregel 1 en 2
  - B alleen maatregel 1, 2 en 4
  - C alleen maatregel 1, 2, 3 en 4
  - D alleen maatregel 2, 4 en 5
  - E alleen maatregel 3, 4 en 5
  - F alle vijf de maatregelen




**bron 20**  
Advertentie

**Ontdek de extreme schoonheid van het Antarctisch gebied**

26-daagse vlieg- / bootreis van  
7 december 2011 tot en met  
1 januari 2012.

Reissom vanaf € 9.350,- p.p. op basis  
van een tweepersoonshut en  
volpension aan boord van het  
motorschip Plancius.



1p **22** Lees bron 20 en lees de vakantiewensen van Bart, Carmen en Dirk.

Bart is getrouwd en heeft twee kinderen van 6 en 8 jaar. Hij heeft drie weken vakantie per jaar en wil dan vooral lekker actief met zijn gezin op vakantie.

Carmen woont samen met haar vriend en heeft geen kinderen. Zij hebben vier weken vakantie per jaar en willen vooral bijzondere plekken op de wereld zien.

Dirk is alleenstaand en leraar. Hij heeft veel vakantie maar is wel gebonden aan de schoolvakanties. Zijn voorkeur gaat uit naar culturele vakanties in bijzondere plaatsen.

- Noteer eerst de naam van de persoon die de reis uit bron 20 geboekt zal hebben.
- Geef vervolgens een argument voor je keuze.

2p **23** Het valt Bart, Carmen en Dirk op dat de vakantie naar Antarctica uit bron 20 plaatsvindt in december. Zij doen daar alle drie een uitspraak over:

Bart zegt: "De kosten van de vakantie zijn erg hoog. Om het nog een beetje betaalbaar te maken, is deze vakantie in het laagseizoen."

Carmen zegt: "Het is dan zomer op het zuidelijk halfrond; de temperatuur is dan niet extreem laag."

Dirk zegt: "In december is het winter op Antarctica en dan krijg je mooiere landschapsfoto's."

- Noteer de namen Bart, Carmen en Dirk op het antwoordblad en zet erachter of de uitspraak juist of onjuist is.

## bron 21

Krantenartikel

### **Boycot toerisme IJsland uit protest tegen de walvisjacht**

24 oktober 2006 - SP-Kamerlid Krista van Velzen roept op tot een toerismeboycot van IJsland om zo een einde aan de illegale walvisjacht af te dwingen. "De walvisjacht is wereldwijd verboden en levert veel minder geld op dan het toerisme," verklaart Van Velzen. "We hebben als gewone burgers daarom een goed drukmiddel om de jacht op deze beschermde dieren een halt toe te roepen."

- 2p 24 Lees bron 21. In het tekstfragment roept een Tweede Kamerlid op om niet naar IJsland op vakantie te gaan vanwege het dierenleed.  
→ Noem twee andere redenen waarom groepen mensen een land zouden willen boycotten als toeristische bestemming.

---

#### **Bronvermelding**

*Een opsomming van de in dit examen gebruikte bronnen, zoals teksten en afbeeldingen, is te vinden in het bij dit examen behorende correctievoorschrift, dat na afloop van het examen wordt gepubliceerd.*